

مراجعة ليلة الامتحان (الصف الخامس الابتدائي)

النموذج ١

أولاً : اللغة العربية

اختر الإجابة الصحيحة مما بين القوسين :

- ١ يُستخدم معمل الوسائط بالمدرسة في عرض الكتب للطلاب .
(الورقية - الرقمية - المدرسية)
- ٢ (الأجهزة الحديثة تساعد على إنجاز الأعمال) ، كلمة « إنجاز » تعنى : (قبول - إتمام - توفير)
- ٣ الآيات في نص (الاعتدال في الإنفاق) من سورة : (البقرة - الإسراء - التوبة)
- ٤ « ابن السبيل » من المستحقين للزكاة ، وهو : (اليتيم - المسافر الذي انقطع به الطريق - المريض)
- ٥ حكايات كتاب ألف ليلة ، وعقلة الإصبع من القصص : (التاريخية - الواقعية - الخيالية)
- ٦ كان الحمام الزاجل يُستخدم قديماً في حمل : (الناس - الرسائل - الأثاث)
- ٧ يعلموننا الأخلاق والعلم . (المعلمون - المعلمين)
- ٨ (بنى المصريون القدماء الأهرامات) ، « الأهرامات » منصوبة بـ : (الألف - الفتحة - الكسرة)
- ٩ هيرودوت كتب عن مصر . (مؤرخ - مآرخ)
- ١٠ أحب القصص الخيالية . (قراءة - قرآة - قراءة)

ثانياً : الرياضيات

اختر الإجابة الصحيحة مما بين القوسين :

- ١ { ٢٦١ } مجموعة الأعداد الأولية .
(٧٦٣٦٣٦٣)
- ٢ إذا كان $s \cap s = \emptyset$ ؛ فإن $s - s =$
($s - s = \emptyset$)
- ٣ أي وتر يمر بمركز الدائرة يسمى
(ضلعاً ، نصف قطر ، قطراً ، غير ذلك)
- ٤ الصورة العشرية للكسر $\frac{3}{4}$ هي
(٠,٧٥٦٠,٥٧٦٠,٥٦٠,٢٥)
- ٥ مثلث متساوي الأضلاع طول ضلعه ٦ سم ؛ فإن محيطه = سم .
(٢٤٦٣٦٦١٨٦١٢)
- ٦ إذا سُحبت بطاقة عشوائياً من بين ٢٠ بطاقة مرقمة من ١ إلى ٢٠ ؛ فإن احتمال ظهور عدد أولى =
($\frac{1}{20}$)
- ٧ إذا اشترت نور ١٢ علبة عصير ، سعر العلبة الواحدة ١,٧٥ جنيه ؛ فإنها ستعطى البائع جنيهاً .
(١٢٠٦١٨٦٢١٦١٢,٧٥)

١ مراجعة ليلة الامتحان

تابع جديد زاكروولي على موقعنا
<https://www.zakrooly.com>

ثالثًا: الدراسات الاجتماعية

اختر الإجابة الصحيحة مما بين القوسين :

- أ أول من بشر بالمسيحية في مصر هو القديس :
 ب عُرف عصر بعصر الشهداء .
 (باخوم - مرقس - يوسف - مينا)
- ج بُنيت محطة توليد الكهرباء من في الزعفرانة .
 (قسطنطين الأول - دقلديانوس - أنطونيوس - أكتافيوس)
- د نستخرج من منجم السكرى معدن :
 (الشمس - الغاز الطبيعي - الرياح - الفحم)
 (الذهب - المنجنيز - الفوسفات - الألماس)

رابعًا: العلوم

اختر الإجابة الصحيحة مما بين القوسين :

- أ يُستخدم المغناطيس الكهربى فى صناعة :
 (المروحة الكهربائية - المدفأة الكهربائية - الجرس الكهربى - المكواة الكهربائية)
- ب يمكن فصل مخلوط الماء والرمل ب :
 (التبخير - الترشيح - قمع الفصل - الفرز)
- ج التغير فى اتجاه الأشعة الضوئية عندما تجتاز السطح الفاصل بين
 وسطين شفافين يسمى الضوء .
 (انعكاس - تحليل - انكسار - تداخل)
- د العلاقة بين البكتيريا والنباتات البقولية علاقة :
 (إفادة - تطفل - تبادل منفعة - افتراس)

Fifth: English

Choose the correct answer from a, b, c or d:

- 1 I like the winter, I don't like the summer.
 a. so b. and c. but d. only
- 2 I sweep the floor tomorrow.
 a. didn't b. won't c. don't d. doesn't
- 3 A: "Where's the music room?" B: "It's on the".
 a. left b. lift c. leaves d. loaves
- 4 My sister will a doctor in the future.
 a. is b. was c. are d. be
- 5 Kareem didn't a show yesterday.
 a. see b. eat c. buy d. clean

النموذج ٢

أولاً : اللغة العربية

اختر الإجابة الصحيحة مما بين القوسين :

- أ الوطن هو البيت الكبير الذي يشعر فيه الإنسان بـ :
 ب (لا تَسِرْ في وَسْطِ الطَّرِيقِ) ، جمع « وسط » :
 ج يوضح الرسول في نص « العلم الصالح وتقدم المجتمع » :
 د ورثة الأنبياء كما نفهم من الحديث الشريف هم :
 ه يُستخرج الذهب الأسود من :
 و يرى الإنسان ما يحدث في البلاد البعيدة عن طريق :
 ز نشكر..... في أداء أعمالهم .
 ح يقرأ..... الدروس في الكتب .
 ط حضر العلماء..... عن البيئة .
 ي..... أخى ؛ لأنه يشعر بالنعاس .
- (الاضطراب - الغربة - الأمن)
 (وسائط - وسطاء - أوساط)
 (تقسيم الميراث - فضل العلم - الزكاة)
 (الصائمون - المُصلُّون - العلماء)
 (فروع الأشجار - بعض الحيوانات - باطن الأرض)
 (السماعات - التليفزيون - المكواة)
 (المخلصون - المخلصين)
 (التلاميذ - التلاميذ - التلاميذ)
 (مؤتمراً - مأتماً - منتمراً)
 (يتثأب - يتثائب - يتثاءب)

ثانياً : الرياضيات

اختر الإجابة الصحيحة مما بين القوسين :

- أ مستطيل طوله ١,٤ سم ، وعرضه ٣,٥ سم ؛ فإن مساحته = سم^٢ .
 ب طول قطر الدائرة التي طول نصف قطرها ٣ سم = سم .
 ج إذا كان $\{٥\} = \text{ص}$ ، $\{٧\} = \text{ح}$ ؛ فإن : $\{٧\} = \text{ح}$ ، $\{٥\} = \text{ص}$
 د أي قطعة مستقيمة تصل بين نقطتين على الدائرة تسمى
 ه (نصف قطر ، وتر ، قطر ، ضلعاً ، غير ذلك)
 و من شكل فن المقابل : ب - أ =
 ز عند إلقاء حجر نرد منتظم وملاحظة العدد الظاهر للوجه العلوي ؛
 فإن احتمال ظهور عدد فردي =
 ح عند تعبئة ٩٠٤ كجم من السكر بالتساوي في ٤٩٢ عبوة ؛ فإن وزن كل عبوة = كجم .
 د (١٠٥٦١٥٦١٠٢٦١٢)

مراجعة ليلة الامتحان

تابع جديد زاكروولي على موقعنا
<https://www.zakrooly.com>

ثالثًا : الدراسات الاجتماعية

اختر الإجابة الصحيحة مما بين القوسين :

- أ أهم مصادر المياه العذبة في مصر : (البحر الأحمر - نهر النيل - البحر المتوسط - بحيرة قارون)
 ب قائد عربي فتح مصر عام ٦٤١ م :
 (خالد بن الوليد - الزبير بن العوام - عثمان بن عفان - عمرو بن العاص)
 ج تحالفت كليوباترا السابعة مع القائد الروماني :
 (أكتافيوس - أنطونيوس - دقلديانوس - يوليوس قيصر)
 د مشروع يصل مياه نهر النيل إلى أراضى شمال سيناء هو :
 (الفرافرة - ترعة السلام - توشكى - شرق العوينات)

رابعًا : العلوم

اختر الإجابة الصحيحة مما بين القوسين :

- أ كل مما يلي من العوامل المؤثرة في عملية الذوبان ما عدا :
 (نوع المادة المذابة - درجة الحرارة - التقليب - اللمس)
 ب عند خلط الضوء الأحمر والأزرق ينتج الضوء :
 (القرمزي - الأصفر - الأخضر - البرتقالي)
 ج تلجأ كثير من الكائنات الحية إلى للاختفاء من أعدائها .
 (التكافل - الترمم - التطفل - المحاكاة)
 د العالم الذى اكتشف فكرة عمل الدينامو :
 (فاراداي - الحسن بن الهيثم - وليم جلبرت - فولتا)

Fifth: English

Choose the correct answer from a, b, c or d:

- 1 What are you going to?
 a. has b. have c. having d. had
- 2 She wants to drink orange
 a. juice b. box c. meat d. lobster
- 3 I'm I want to eat.
 a. hungry b. okay c. thirsty d. happy
- 4 They're play football tomorrow.
 a. going b. going to c. went d. goes
- 5 He has a on his finger.
 a. sister b. knee c. toe d. blister

E الصف الخامس الابتدائي - الفصل الدراسي الأول



تابع جديد زاكروولي على موقعنا
<https://www.zakrooly.com>



مع تمنيات موقع ذاكرولي التعليمي لكل الطلاب بالنجاح والتوفيق

سلاح التلميذ

موقع ذاكرولي التعليمي

الصف الخامس الابتدائي

مراجعة ليلة الامتحان (الصف الخامس الابتدائي)

النموذج ٣

أولاً : اللغة العربية

١ من موضوع « حب الوطن » :

« يهوى أميراً مادة الدراسات الاجتماعية ؛ حيث يتعرف تاريخ بلاده ، ويستخلص العبر من سير العظماء ، ويتعلم الوفاء والعطاء والتضحية والتعاون مع الآخرين » .

اختر الإجابة الصحيحة مما بين القوسين :

- ١ معنى (العبر) :
 - ٢ مضاد (العطاء) :
 - ٣ سير العظماء تعلمنا :
 - ٤ كلمة « الدراسات » جمع :
 - ٥ كلمة « سير » مجرورة بـ :
- (العظاات - السمات - الدراسات)
(المنع - الكرم - الكره)
(العظمة والتكبر - الوفاء والتضحية - القوة والعنف)
(مذكر سالم - مؤنث سالم - تكسير)
(الياء - الكسرة - الفتحة)

٢ من قصة « مغامرات فى أعماق البحار » :

اختر الإجابة الصحيحة مما بين القوسين :

- ١ (كرة الساحر البلورية) تشبه فى عصرنا الحاضر :
 - ٢ الحمام الزاجل يطير أكثر من كيلومتراً فى الساعة . (سبعين - ستين - ثمانين)
- (الصاروخ - القطار - التليفزيون)

٣ من نص « مصر أنشودة الدنيا » :

يا مصر يا أنشودة الدنيا وأغنية الشعوب
يا كعبة الأحرار نهُتاف نصرك فى القلوب

اختر الإجابة الصحيحة مما بين القوسين :

- ١ معنى (هُتاف) :
 - ٢ مفرد (الأحرار) :
 - ٣ (يا أنشودة الدنيا) أسلوب :
- (صوت منخفض - صوت عالٍ - صوت متقطع)
(الحار - الحر - الحرارة)
(استفهام - نداء - نهى)

ثانيًا : الرياضيات

اختر الإجابة الصحيحة مما بين القوسين :

- أ إذا كان \bar{a} ، \bar{b} وترين في الدائرة ؛ فإن \bar{c} يكون في الدائرة .
 (نصف قطرًا ، مركزًا ، وترًا ، محيطًا)
 ب إذا كانت $\{10, 67\} \supset \{4, 10, 67\}$ ؛ فإن $s =$
 (66361067)
 ج 40 يومًا = أسابيع .
 (8676665)
 د المثلث الذي قياسات زواياه 50° ، 40° ، 90° يسمى مثلثًا الزاوية .
 (قائمًا ، منفرجًا ، حادًا ، غير ذلك)
 ه العدد $4, 6789 =$ (لأقرب جزء من 1000) .
 (4, 6864, 79964, 67964, 680)
 و احتمال الحدث المستحيل =
 (3626166)
 ز عدد المجموعات الجزئية من $\{8\} =$
 (3626160)

ثالثًا : الدراسات الاجتماعية

اختر الإجابة الصحيحة مما بين القوسين :

- أ ولد السيد المسيح عليه السلام في بيت لحم في : (سوريا - العراق - فلسطين - مصر)
 ب تم إنشاء ميناء لتخفيف الضغط على ميناء الإسكندرية .
 (دمياط - السويس - الغردقة - شرم الشيخ)
 ج استشهد القديس مرقس على يد : (البطالمة - الرومان - اليهود - الفرس)
 د أحد مصادر الطاقة المتجددة هو : (الرياح - البترول - الغاز الطبيعي - الفحم)

رابعًا : العلوم

اختر الإجابة الصحيحة مما بين القوسين :

- أ يتكون الملف في المغناطيس الكهربي من سلك مصنوع من : (النحاس - الألومنيوم - الحديد - النيكل)
 ب تحصل النباتات الخضراء على الطاقة من : (ضوء الشمس - الأكسجين - الكلوروفيل - ثاني أكسيد الكربون)
 ج الصورة المتكونة من خلال الثقوب الضيقة تكون : (معتدلة ومكبرة - مقلوبة ومصغرة - معتدلة ومصغرة - مقلوبة ومكبرة)
 د يمكن فصل الزيت عن الماء عن طريق : (الترشيح - قمع الفصل - التبخير - الجذب المغناطيسي)





Fifth: English

Choose the correct answer from a, b, c or d:

- 1 Let's juice.
a. eat b. drink c. slide d. cry
- 2 He went on a
a. kite b. flower c. ride d. prize
- 3 He tickets.
a. ate b. drank c. wrote d. bought
- 4 Soha won a
a. smile b. prize c. plane d. tree
- 5 I don't have money.
a. enough b. to c. many d. for

ذات كروولى
Rania Sayed



مراجعة ليلة الامتحان



تابع جديد زاكروولى على موقعنا
<https://www.zakrooly.com>



مع تمنيات موقع ذاكرولى التعليمى لكل الطلاب بالنجاح والتوفيق

سلاح التلميذ

موقع ذاكرولى التعليمى

الصف الخامس الابتدائى

مراجعة ليلة الامتحان

(الصف الخامس الابتدائي)

النموذج E

أولاً : اللغة العربية

١ من موضوع « الكهرباء فى حياتنا » :

« فى المصنع لا تُدار معظم الآلات إلا بالكهرباء ، ويعوق انقطاع التيار الكهربائى الحركة فى الشارع ليلاً » .

اختر الإجابة الصحيحة مما بين القوسين :

- | | |
|---------------------|---------------------------------|
| ١ معنى (يعوق) : | (يمنع - يخضع - يدفع) |
| ٢ جمع (الشارع) : | (الشعار - الشراعات - الشوارع) |
| ٣ مضاد (تدار) : | (تتعطل - تتراجع - تتقدم) |
| ٤ كلمة (المصنع) : | (مفعول به - اسم مجرور - خبر) |
| ٥ (الحركة) : | (مفرد - مثنى - جمع) |
| ٦ (يعوق) فعل : | (ماضٍ - مضارع - أمر) |

٢ من نص « جزاء العاملين » :

﴿ رَبَّنَا وَعَايِنَا مَا وَعَدْتَنَا عَلَىٰ رُسُلِكَ وَلَا نَحْزَنُ يَوْمَ الْقِيَامَةِ إِنَّكَ لَا تُخْلِفُ الْوَعَادَ ﴾

اختر الإجابة الصحيحة مما بين القوسين :

- | | |
|-------------------------------------|--------------------------------|
| ١ معنى (نَحْزَنُ) : | (تهنا - تكرمنا - ترحمنا) |
| ٢ (وَعَايِنَا) أسلوب أمر ، غرضه : | (التنبيه - الدعاء - التعظيم) |

٣ من قصة « مغامرات فى أعماق البحار » :

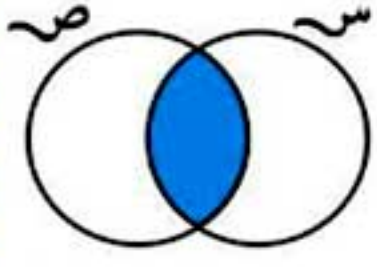
اختر الإجابة الصحيحة مما بين القوسين :

- | | |
|---|-------------------------------|
| ١ (الأخطبوط) حيوان : | (برى - بحرى - برمائى) |
| ٢ السمكة « ذات المنشار » لها طرف طوله : | (متر - متران - أربعة أمتار) |

مراجعة ليلة الامتحان

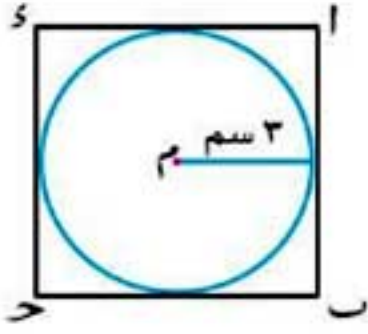
تابع جديد زاكروولى على موقعنا
<https://www.zakrooly.com>

ثانياً : الرياضيات



اختر الإجابة الصحيحة مما بين القوسين :

- ١ الرمز المناسب الذي يعبر عن الجزء المظلل هو
- (س - U ص - م س - U ص - م س - U ص - م س - U ص - م س)
- ٢ إذا كان احتمال نجاح تلميذ يساوي ٠,٨ ؛ فإن احتمال عدم نجاحه = (٠,٨ ٠,٢ ٠,٦ ٠,٤)
- ٣ عدد ارتفاعات المثلث القائم الزاوية = (١ ٢ ٣ ٤)
- ٤ $82,50 \approx 82,497$ لأقرب جزء من (عشرة مائة ألف وحدة)
- ٥ إذا كانت س مجموعة الأعداد الزوجية ؛ فإن $\{76562\}$ س . (\in \notin \subset \supset)
- ٦ القطع العمودية للمثلث الحاد الزوايا تتقاطع في نقطة المثلث . (خارج داخل على لا شيء مما سبق)



(٣٦٦٤٤٦١٨٦٩)

٧ في الشكل المقابل :

محيط المربع ا ب ح د

= سم .

ثالثاً : الدراسات الاجتماعية

اختر الإجابة الصحيحة مما بين القوسين :

- ١ أنشأ بطلميوس الأول المناحل لتصدير العسل إلى : (الصين - اليونان - روما - فينيقيا)
- ٢ يُستخدم معدن في صناعة الأسمدة . (الحديد - النحاس - الفوسفات - الفضة)
- ٣ أصبحت مصر ولاية رومانية بعد معركة : (ديوان البحرية - أبي قير البرية - أكتيوم البحرية - أبي قير البحرية)
- ٤ ينتشر معدن الحديد في منطقة : (أم بجمة - الواحات البحرية - أبو طرطور - السكري)

رابعاً : العلوم

اختر الإجابة الصحيحة مما بين القوسين :

- ١ كل مما يلي يعتبر من النباتات المفترسة ماعدا : (الديونيا - حامول الماء - البرسيم - الدروسيرا)
- ٢ تُستخدم في تحديد الاتجاهات الأصلية الأربعة ، والذي قام باختراعها العالم وليم جلبرت . (الدينامو - الموتور - المنشور الثلاثي - البوصلة)
- ٣ أول من فسّر رؤية الأشياء هو العالم : (فاراداي - الحسن بن الهيثم - وليم جلبرت - فولتا)
- ٤ تزيد سرعة ذوبان المذاب في المذيب في حالة كل مما يأتي ماعدا : (زيادة درجة الحرارة - التقليب - زيادة كمية المذيب - انخفاض درجة الحرارة)





Fifth: English

Choose the correct answer from a, b, c or d:

- 1 I'll pick apples the fall.
a. into b. in c. on d. of
- 2 Mona watered the and brushed her hair.
a. planes b. plants c. chairs d. clocks
- 3 Ali didn't have enough to buy popcorn.
a. flowers b. pictures c. boys d. money
- 4 I'm thirsty. Let's have some
a. dress b. ride c. juice d. clothes
- 5 I'm to visit my friend tomorrow.
a. going b. go c. went d. goes



مراجعة ليلة الامتحان



تابع جديد ذاكروللي على موقعنا
<https://www.zakrooly.com>



مع تمنيات موقع ذاكروللي التعليمي لكل الطلاب بالنجاح والتوفيق

سلاح التلميذ

موقع ذاكروللي التعليمي

الصف الخامس الابتدائي

مراجعة ليلة الامتحان (الصف الخامس الابتدائي)

النموذج ٥

أولاً : اللغة العربية

١ من موضوع « تربية الدواجن » :

« أميرة : لقد قرأت أن الطيور تصاب بالإنفلونزا مثل الإنسان .

الأم : نعم يا أميرة ؛ الإنفلونزا مرض خطير يصيب الطيور ، ويؤدي إلى نفوقها .

اختر الإجابة الصحيحة مما بين القوسين :

- ١ معنى (نفوقها) :
 (حياتها - موتها - إصابتها)
- ٢ يُنتقل مرض إنفلونزا الطيور عن طريق :
 (الهواء - الاحتكاك المباشر - كليهما)
- ٣ (الطيور) :
 (جمع مذكر سالم - جمع تكسير - مفرد)
- ٤ (مرض) تعرب :
 (خبر - فاعل - مفعول به)
- ٥ (الإنفلونزا) تعرب :
 (اسم مجرور - فعل مضارع - حرف عطف)

٢ من قصة « مغامرات في أعماق البحار » :

اختر الإجابة الصحيحة مما بين القوسين :

- ١ تعيش (هالة) مع زوجها في :
 (الإسكندرية - الغردقة - سيناء)
- ٢ البترول يسمى الذهب :
 (الأبيض - الأسود - الأصفر)

٣ من نص « الاعتدال في الإنفاق » :

قال تعالى : ﴿ وَآتِ ذَا الْقُرْبَىٰ حَقَّهُ وَالْمِسْكِينَ وَابْنَ السَّبِيلِ وَلَا تُبَذِّرْ تَبْذِيرًا ۚ إِنَّ الْمُبَذِّرِينَ كَانُوا إِخْوَانَ الشَّيْطَانِ ۗ وَكَانَ الشَّيْطَانُ لِرَبِّهِ كَفُورًا ۚ ﴾ (٣٧)

اختر الإجابة الصحيحة مما بين القوسين :

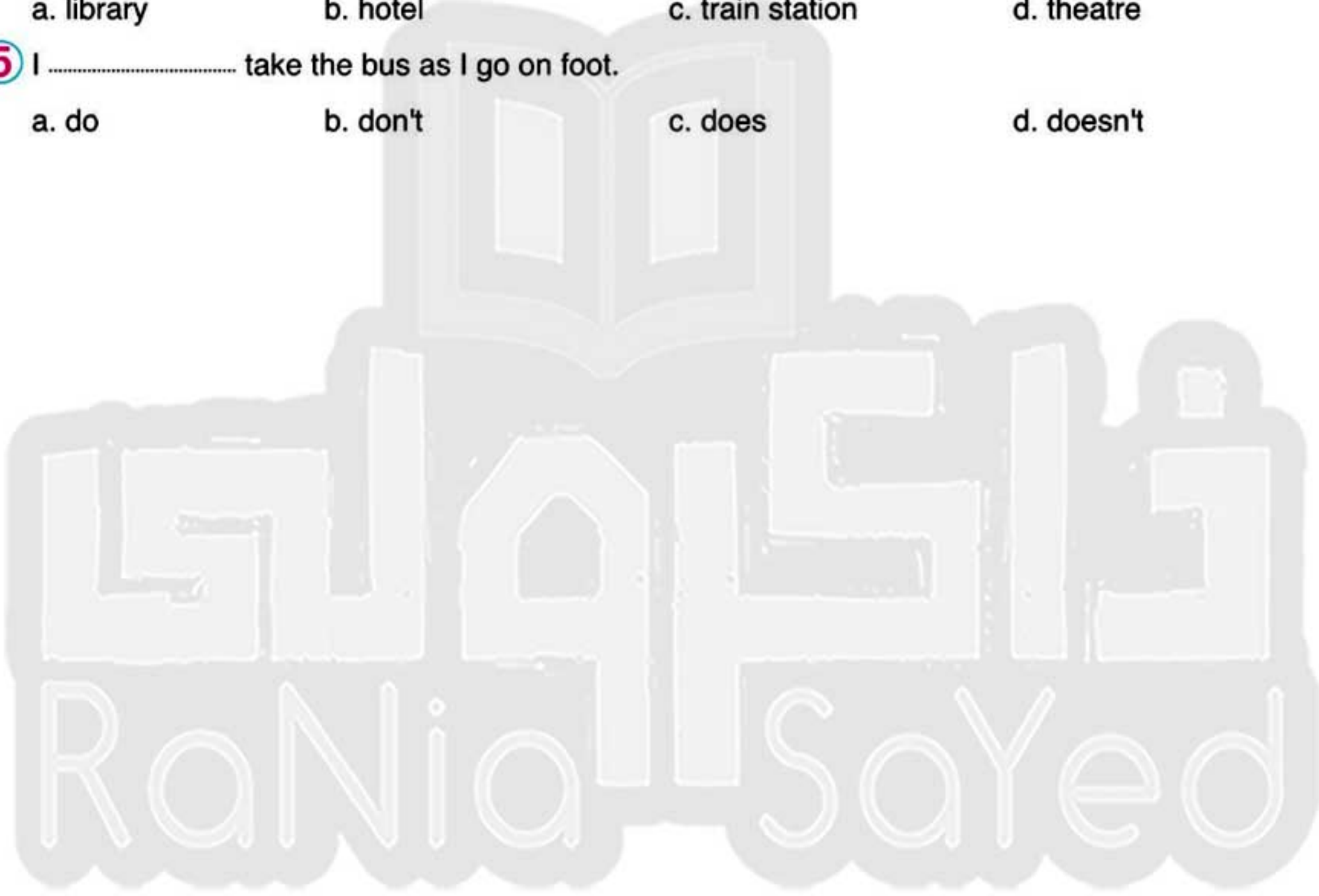
- ١ مرادف (وَآتِ) :
 (أعط - خذ - ابعث)
- ٢ الآيات من سورة :
 (الإسراء - آل عمران - البقرة)
- ٣ (وَآتِ ذَا الْقُرْبَىٰ حَقَّهُ) أسلوب :
 (أمر - تعجب - نفي)



Fifth: English

Choose the correct answer from a, b, c or d:

- 1 The actor autographs.
a. drove b. wore c. signed d. talked
- 2 I going to wash my hair tomorrow.
a. do b. is c. am d. are
- 3 She had two of coffee.
a. plates b. cups c. slices d. pieces
- 4 A: "Where can you borrow books?" B: "From the"
a. library b. hotel c. train station d. theatre
- 5 I take the bus as I go on foot.
a. do b. don't c. does d. doesn't



مراجعة ليلة الامتحان



تابع جديد زاكروولي على موقعنا
<https://www.zakrooly.com>



مع تمنيات موقع ذاكرولي التعليمي لكل الطلاب بالنجاح والتوفيق

سلاح التلميذ

موقع ذاكرولي التعليمي

الصف الخامس الابتدائي

مراجعة ليلة الامتحان (الصف الخامس الابتدائي)

النموذج ٦

أولاً : اللغة العربية

١ من موضوع « حب الوطن » :

« أمير يحب الدراسات ؛ لأنه يتعرف أرض بلاده وثرواتها الطبيعية وخيراتها الوفيرة ، ويتعرف المعالم السياحية التي يفد إليها السائحون من كل أرجاء الأرض ليشاهدوا روعتها » .

اختر الإجابة الصحيحة مما بين القوسين :

- ١ مرادف (يفد) :
٢ يهوى أمير مادة :
٣ كلمة (أمير) مرفوعة بـ :
٤ (الدراسات) مفعول به منصوب بـ :
٥ (السائحون) :
(يرحل - يحزن - يأتي)
(العلوم - الدراسات الاجتماعية - التربية الوطنية)
(الضمة - الواو - الياء)
(الكسرة - الفتحة - الضمة)
(جمع تكسير - جمع مؤنث سالم - جمع مذكر سالم)

٢ من قصة « مغامرات في أعماق البحار » :

اختر الإجابة الصحيحة مما بين القوسين :

- ١ كان أسامة جالساً في حديقة المنزل ، وقد أسند ظهره إلى : (مقعد - صخرة - شجرة)
٢ سقط أسامة : (في حفرة - وسط مستعمرات مرجانية - داخل شبكة)

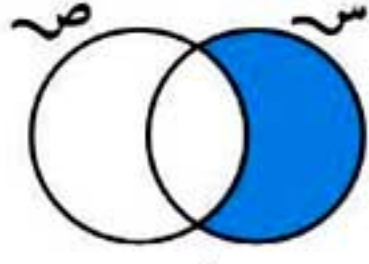
٣ من نص « التسامح والعفو » :

في وسط قنطرة تلا
بالكبرياء شهيرتان
قت ذات يوم نعجتان
ن غليظتان عنيدتان

اختر الإجابة الصحيحة مما بين القوسين :

- ١ مرادف (تلاقت) :
٢ (بالكبرياء شهيرتان) تعبير يدل على :
٣ كلمة (غليظتان) :
(تفرقت - تنافرت - تقابلت)
(الكبر - التواضع - التسامح)
(مفرد - مثنى - جمع مذكر سالم)

ثانيًا: الرياضيات



اختر الإجابة الصحيحة مما بين القوسين :

- أ في شكل فن المقابل ما يمثله الجزء المظلل هو
 (س - U ص - م س - ن ص - م س - ص - م ص - س)
 ب الصورة العشرية للعدد $7\frac{3}{4}$ هي
 (٧٥,٧٧٦٧٥٧,٧٦٧٥,٧٦٧,٧٥)
 ج عدد ارتفاعات المثلث المتساوي الساقين =
 (٤٦٣٦٢٦١)
 د أن تشرق الشمس من الغرب هو حدث
 (مؤكد - مستحيل - ممكن - غير ذلك)
 هـ $\{1\} - \{56261\} = \dots\dots\dots$
 ($\{2\}$)
 و إذا كان عدد تلاميذ الفصل ٤٠ تلميذًا ، منهم ٢٥ ولدًا ؛ إذا أُختير تلميذ عشوائيًا ،
 فإن احتمال أن تكون بنتًا =
 ($\frac{5}{8}$ - $\frac{3}{8}$ - $\frac{2}{8}$)
 ز $723 \div 72,3 = 24 \div \dots\dots\dots$
 (٢٤٠٦٢٤٦٠,٢٤٦٢,٤)

ثالثًا: الدراسات الاجتماعية

اختر الإجابة الصحيحة مما بين القوسين :

- أ تولت كليوباترا السابعة حكم مصر بعد الثاني عشر.
 (أنطونيوس - بطلميوس - أكتافيوس - الإسكندر)
 ب يعوق الملاحة النهرية في نهر النيل في مصر :
 (تجمد النهر - قلة السفن - شدة التيار - السدود والقناطر)
 ج عاصمة مصر في العصر البطلمي :
 (منف - طيبة - القاهرة - الإسكندرية)
 د يدخل المنجنيز في صناعة : (الحلى والمجوهرات - الحديد والصلب - الأدوية - الأسمدة)

رابعًا: العلوم

اختر الإجابة الصحيحة مما بين القوسين :

- أ ارتداد الضوء في اتجاه واحد عندما يسقط على سطح أملس لامع هو الضوء .
 (انكسار - انعكاس منتظم - تحلل - إحلال)
 ب يمكن فصل مخلوط من الرمل ودبابيس من الحديد عن طريق :
 (الترشيح - التبخير - الجذب المغناطيسي - قمع الفصل)
 ج يمكن توليد تيار كهربى في ملف من السلك المعزول عند تحريك قضيب من داخل الملف .
 (الخشب - المغناطيس - البلاستيك - الألومنيوم)
 د تسبب علاقة ثبات أعداد الفرائس . (التطفل - الافتراس - التكافل بالإفادة - الترمم)

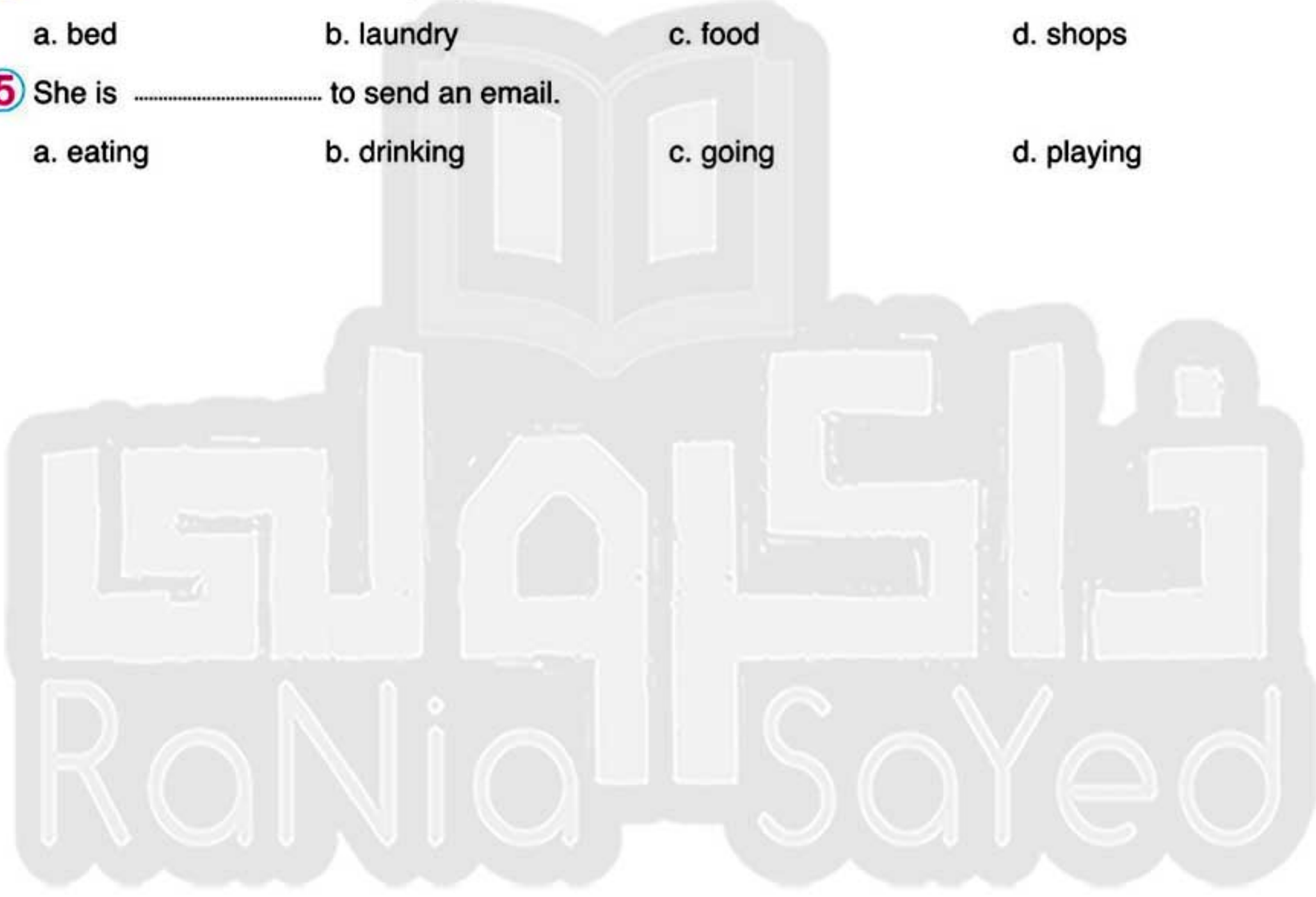




Fifth: English

Choose the correct answer from a, b, c or d:

- 1 It's time the science class.
a. at b. for c. to d. with
- 2 In the fall, I'm going to in the leaves.
a. play b. dust c. make d. buy
- 3 Aly the pets yesterday.
a. feed b. feeding c. will feed d. fed
- 4 I do the every day.
a. bed b. laundry c. food d. shops
- 5 She is to send an email.
a. eating b. drinking c. going d. playing



مراجعة ليلة الامتحان



تابع جديد زاكروولي على موقعنا
<https://www.zakrooly.com>



مع تمنيات موقع ذاكروليفي التعليمي لكل الطلاب بالنجاح والتوفيق

سلاح التلميذ

موقع ذاكروليفي التعليمي

الصف الخامس الابتدائي

مراجعة ليلة الامتحان

(الصف الخامس الابتدائي)

النموذج ٧

أولاً : اللغة العربية

أ من موضوع « حب الوطن » :

« أمير : هل البيت وطن ؟

الأب : نعم يا أمير ، إنَّ بيتك هو وطنك ، وشارعك ، ومدرستك ، وحيك ، ومحافظتك . وكل مكان في مصر ملك لك وأنتَ ملك له .

اختر الإجابة الصحيحة مما بين القوسين :

- ١ جمع (حى) :
 - ٢ الوطن هو البيت الكبير الذي يشعر فيه الإنسان بـ :
 - ٣ من ممتلكات كل مصرى :
 - ٤ (هل البيت وطن ؟) أسلوب :
 - ٥ (هو) ضمير :
 - ٦ كلمة (البيت) :
- (أحياء - أكناف - تضحيات)
(الاضطراب - الغربة - الأمن)
(الأهرامات - وسائل المواصلات - كلاهما)
(تعجب - استفهام - نداء)
(متكلم - مخاطب - غائب)
(مفرد - مثنى - جمع)

ب من نص « العلم النافع وتقدم المجتمع » :

عن أبي الدرداء رضي الله عنه قال : سمعت رسول الله ﷺ يقول : « إنَّ العلماء ورثة الأنبياء ، وإنَّ الأنبياء لم يورثوا ديناراً ولا درهماً ، وإنما ورثوا العلم ... » .

اختر الإجابة الصحيحة مما بين القوسين :

- ١ مضاد (العلم) :
 - ٢ للعلم دور في هداية الناس إلى ما ينفعهم في :
- (الجهل - الغباء - الحمق)
(الدنيا - الآخرة - الاثنين معاً)

ج من قصة « مغامرات فى أعماق البحار » :

اختر الإجابة الصحيحة مما بين القوسين :

- ١ أحب الأوقات إلى أسامة وقت :
 - ٢ بحث « عقلة الإصبع » عن أخته ، وهو على ظهر :
- (قراءة القصص - لعب الكرة - مشاهدة التلفزيون)
(حيوان بحرى - سمكة كبيرة - قارب صغير)

مراجعة ليلة الامتحان

تابع جديد زاكروولى على موقعنا
<https://www.zakrooly.com>

ثانيًا : الرياضيات

اختر الإجابة الصحيحة مما بين القوسين :

أ) $\frac{1}{8} = 3$ (لأقرب جزء من مائة) .

ب) إذا كانت شـ = { ١٠٦٩٦٨٦٧٦٦٦٥ } ؛ فإن { ٧٦٤ } شـ .

ج) في المثلث ا ب ح  او تسمى : (وترًا ، ارتفاعًا ، قاعدة ، غير ذلك)

د) ٢,٥ كيلومترات = متر .

هـ) في الشكل المقابل :

م م ن دائرتان ؛ فإن طول $\overline{م ن}$ = سم .

و) إذا كانت { ١٢٦٢ } $\not\subset$ { ٨٦٦٤٦٢ } ، فإن ا =

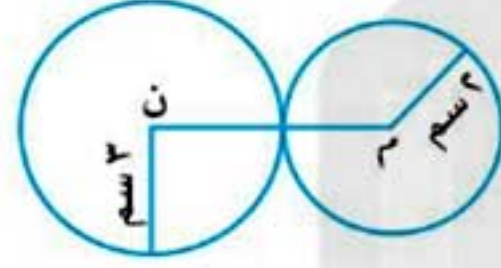
ز) أصغر الأعداد التالية هو :

(٣,١٢٥٦٣,١٣٦٣,١٢٦٣,١٠)

(٧٦٤٦٦٦٥)

(وترًا ، ارتفاعًا ، قاعدة ، غير ذلك)

(٢٥٠٠٦٢٥٠٦٠,٢٥٦٢٥)



(٢٦٣٦٦٥)

(٨٦٣٦٤٦٢)

(١,٠٢٣٦٠,١٢٣٦٠,١٢٦٠,١١١)

ثالثًا : الدراسات الاجتماعية

اختر الإجابة الصحيحة مما بين القوسين :

أ) أصدر مرسوم ميلان الذي أنهى عصراضطهاد المسيحيين .
(قسطنطين الأول - دقلديانوس - يوليوس قيصر - إقليدس)

ب) النقل الذي يتميز بالسرعة والانتشار وتخطى المرتفعات هو النقل :

(البحري - البري - الجوي - النهري)

ج) يعد من أهم آثار البطالمة في مصر .

(عمود السواري - معبد إدفو - حصن بابلليون - تمثال هادريان)

د) يعد أحد أهم مصادر الطاقة النظيفة والمتجددة . (الفحم - الشمس - الغاز - البترول)

رابعًا : العلوم

اختر الإجابة الصحيحة مما بين القوسين :

أ) هو الطاقة التي يمكن رؤيتها ، ويسير في خطوط مستقيمة .

(الصوت - الحرارة - الضوء - الظل)

ب) في المغناطيس الأقطاب المغناطيسية المتشابهة تتنافر ، والأقطاب المختلفة تتجاذب ، ويُعرف ذلك بقانون :

(الجاذبية - التجاذب والتنافر - الحجم - الكتلة)

ج) المادة المذابة في مخلوط الشيكولاتة واللبن هي :

(الملائيا - الطاعون - البلهارسيا - داء الفيل)





Fifth: English

Choose the correct answer from a, b, c or d:

- 1 Watch ! The bus is coming.
a. by b. at c. on d. out
- 2 I want orange juice.
a. doesn't b. isn't c. don't d. aren't
- 3 Mona a prize yesterday.
a. win b. wins c. winning d. won
- 4 She's going to the beach in the
a. winter b. fall c. summer d. spring
- 5 I'm going to a beefburger.
a. has b. had c. have d. having

فانيسه
Rania Sayed



مراجعة ليلة الامتحان



تابع جديد زاكروولي على موقعنا
<https://www.zakrooly.com>



مع تمنيات موقع ذاكروولي التعليمي لكل الطلاب بالنجاح والتوفيق

سلاح التلميذ

موقع ذاكروولي التعليمي

الصف الخامس الابتدائي

مراجعة ليلة الامتحان

(الصف الخامس الابتدائي)

النموذج ٨

أولاً : اللغة العربية

١ من موضوع « الكهرباء فى حياتنا » :

« ثم تحدث المعلم عن مخترع الكهرباء ، ومخترع المصباح الكهربائى ، ولكى يستثير المعلم انتباه التلاميذ طرح عليهم السؤال التالى : ماذا يحدث إذا انقطع التيار الكهربائى لمدة أسبوع ؟ » .

اختر الإجابة الصحيحة مما بين القوسين :

- | | |
|----------------------------|--|
| ١ مرادف (يستثير) : | (يحذر - يحرك - يسعد) |
| ٢ مضاد (انقطع) : | (بدأ - ثبت - استمر) |
| ٣ كلمة (المعلم) ، تعرب : | (فاعل - خبر - مبتدأ) |
| ٤ كلمة (التلاميذ) : | (جمع مذكر سالم - جمع تكسير - جمع مؤنث) |
| ٥ كلمة (ماذا) : | (أداة استفهام - ضمير - اسم إشارة) |

٢ من قصة « مغامرات فى أعماق البحار » :

اختر الإجابة الصحيحة مما بين القوسين :

- | | |
|---|-----------------------------|
| ١ الأنابيب السوداء تُستخدم فى نقل : | (الغاز - البترول - الماء) |
| ٢ كانت ترسو إلى جوار الجزيرة الحديدية : | (طائرة - سفينة - سيارة) |

٣ من نص « طريق المعالى » :

العلم للمجد باب يا من يروم الدخولا
والحر للمجد يسعى ويسهر الليل طولا

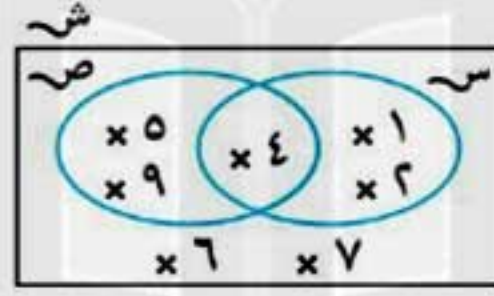
اختر الإجابة الصحيحة مما بين القوسين :

- | | |
|----------------------------------|----------------------------------|
| ١ معنى (المجد) : | (الاستقرار - الرفعة - السعادة) |
| ٢ جمع (العلم) : | (العلوم - الأعلام - المعالم) |
| ٣ (يا من يروم الدخولا) أسلوب : | (نهى - أمر - نداء) |

ثانيًا : الرياضيات

اختر الإجابة الصحيحة مما بين القوسين :

- ١ {٥} {٥٥٦٣٥}
- ٢ ٨,٦٥٧ م = (لأقرب سم)
- ٣ إذا تقاطعت القطع العمودية للمثلث في نقطة خارج المثلث ، كان المثلث :
- (حاد الزوايا ، قائم الزاوية ، منفرج الزاوية ، غير ذلك)
- ٤ $\frac{٢}{٥}$ $\frac{٣}{٤}$
- ٥ إذا كانت ص هي مجموعة الأعداد الزوجية المحصورة بين ٢ و ٤ ؛ فإن ص مجموعة :
- (منتهية ، غير منتهية ، خالية ، شاملة)
- ٦ احتمال ظهور عدد أكبر من أو يساوي ٥ عند إلقاء حجر نرد مرة واحدة =
- ٧ من شكل فن المقابل :
- س - ص =
- ٨ ({٢٦١} ، {٤} ، {٩٦٥٦٤٦٢٦١} ، {٧٦٤٦٩٦٥٦٤})



ثالثًا : الدراسات الاجتماعية

اختر الإجابة الصحيحة مما بين القوسين :

- ١ يعتبر أعلى نصب تذكاري في الإسكندرية .
- (عمود السواري - منارة الإسكندرية - المسرح الروماني - جامعة الإسكندرية)
- ٢ يهدف مشروع شرق العوينات لاستصلاح الأراضي اعتمادًا على :
- (نهر النيل - الأمطار الشتوية - المياه الجوفية - بحيرة ناصر)
- ٣ قامت العائلة المقدسة برحلتها إلى مصر نتيجة اضطهاد لهم .
- (دقلديانوس - يوليوس قيصر - هيروودوس - بطلميوس الأول)
- ٤ أكثر بحار العالم تلوثًا بالبحر :
- (الأحمر - المتوسط - الميت - الأسود)

رابعًا : العلوم

اختر الإجابة الصحيحة مما بين القوسين :

- ١ إذا نظرت إلى تفاحة حمراء من خلال لوح زجاجي أصفر؛ فإنها تبدو :
- (حمراء - صفراء - بيضاء - سوداء)
- ٢ جميع ما يلي لا يسمح بنفاذ الضوء من خلاله ما عدا : (ورق الكرتون - الخشب - الزجاج - ورق الفويل)
- ٣ يطلق مصطلح مذيب عام على :
- (الزيت - الماء - الكحول - الخل)
- ٤ جميع ما يلي من الكائنات المترمة ما عدا :
- (فطر عفن الخبز - فطر عيش الغراب - حامول الماء - فطر البنسيليوم)



Fifth: English

Choose the correct answer from a, b, c or d:

- 1 A: "What's your favourite ?"
B: "I like maths."
a. subject b. colour c. animal d. month
- 2 I'm hungry. have rice and chicken.
a. Let b. Lets c. Let's d. Letting
- 3 I will apples.
a. catch b. pick c. download d. ride
- 4 They did the
a. rubbish b. groceries c. laundry d. beds
- 5 He won't in the leaves.
a. play b. playing c. plays d. played

ذات كروولى
Rania Sayed



مراجعة ليلة الامتحان



تابع جديد زاكروولى على موقعنا
<https://www.zakrooly.com>



مع تمنيات موقع ذاكرولى التعليمى لكل الطلاب بالنجاح والنوفيق

سلاح التلميذ

موقع ذاكرولى التعليمى

الصف الخامس الابتدائى

مراجعة ليلة الامتحان (الصف الخامس الابتدائي)

النموذج ٩

أولاً : اللغة العربية

١ من موضوع « تربية الدواجن » :

« الأم : لذلك يجب علينا العناية بالطيور لحمايتها وحماية الإنسان من الأمراض ، والحرص على نظافة مساقى الماء وتحصينها ضد الأمراض بصفة دورية » .

اختر الإجابة الصحيحة مما بين القوسين :

- ١ مرادف (تحصينها) : (بناؤها - زيادتها - حمايتها)
- ٢ جمع (موطن) : (مواطن - وطن - وطنية)
- ٣ كلمة (نظافة) ، اسم مجرور بـ : (الكسرة - الياء - الضمة)
- ٤ كلمة (الأمراض) : (جمع مؤنث - جمع مذكر - جمع تكسير)
- ٥ كلمة (حماية) : (اسم - فعل - حرف)

٢ من قصة « مغامرات في أعماق البحار » :

اختر الإجابة الصحيحة مما بين القوسين :

- ١ يرتدى عامل اللحام على وجهه قناعاً يحميه من : (السمك المفترس - النار الشديدة - الهواء الشديد)
- ٢ يدافع سمك « أبو سيف » عن نفسه بـ : (أذرعه الثمانية - مادة كالحبر - طرف كالسيف)

٣ من نص « الاعتدال في الإنفاق » :

قال تعالى : ﴿ إِنَّ رَبَّكَ يَبْسُطُ الرِّزْقَ لِمَنْ يَشَاءُ وَيَقْدِرُ إِنَّهُ كَانَ بِعِبَادِهِ خَبِيرًا بَصِيرًا ٣٠ ﴾ [الإسراء: ٣٠]

اختر الإجابة الصحيحة مما بين القوسين :

- ١ مضاد (يَقْدِرُ) : (يحكم - يوسع - يضيق)
- ٢ جمع (بَصِيرًا) : (بصراء - مبصرون - إبصار)
- ٣ (يَبْسُطُ - يَقْدِرُ) بين الكلمتين : (ترادف - تضاد - تطابق)



مراجعة ليلة الامتحان



تابع جديد زاكروولي على موقعنا

<https://www.zakrooly.com>



مع تمنيات موقع ذاكرولي التعليمي لكل الطلاب بالنجاح والتوفيق

سلاح التلميذ

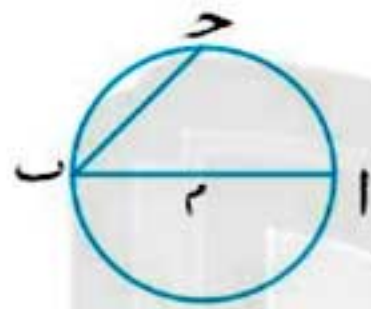
موقع ذاكرولي التعليمي

الصف الخامس الابتدائي

ثانيًا : الرياضيات

اختر الإجابة الصحيحة مما بين القوسين :

- أ طول قطر الدائرة أى وتر فى الدائرة لا يمر بالمركز .
 ب $1,6 < 1,6 \times \frac{2}{5}$
 ج إذا كانت $s = \{a, b, c, d, e, f, g, h, i, j, k, l, m, n, o, p, q, r, s, t, u, v, w, x, y, z\}$ ، فإن $s - s = \dots$
 د مربع طول ضلعه ٣, ٥ سم ؛ فإن مساحته = سم^٢ .
 ه إذا كانت $4 \in \{7, 6, 1 + 6\}$ ؛ فإن $s = \dots$
 و فى الشكل المقابل :
 ز عند إلقاء حجر نرد منتظم مرة واحدة ؛ فإن احتمال ظهور أكبر من ٦ =
- (<math>6 < 6 > 6 = 6</math> غير ذلك)
 (٠, ٣٦ $\frac{5}{3}$ ٦١, ٦٦٠, ٦)
 ({a, b, c, d, e, f, g, h, i, j, k, l, m, n, o, p, q, r, s, t, u, v, w, x, y, z})
 (٢٨٠, ٩٦٢٨, ٠٩٦٢٦٦٢١, ٢)
 (٥٦٤٦٣٦٢)
 (٤٦٣٦٢٦١)
 (صفرًا $\frac{1}{3}$ $\frac{1}{6}$ $\frac{1}{6}$)



ثالثًا : الدراسات الاجتماعية

اختر الإجابة الصحيحة مما بين القوسين :

- أ أنشأ جامعة الإسكندرية .
 ب القاهرة و من أهم مراكز صناعة الأثاث فى مصر .
 ج يُعد أكبر دير فى مصر والشرق الأوسط دير :
 د يُستخرج المنجنيز من منطقة : (أم بجمة - أبو طرطور - الواحات البحرية - جبل المغارة)
 (قسطنطين الأول - كليوباترا السابعة - بطلميوس الأول - الإسكندر الأكبر)
 (البحيرة - الإسكندرية - دمياط - الجيزة)

رابعًا : العلوم

اختر الإجابة الصحيحة مما بين القوسين :

- أ كل ما يلى من الأضواء الأولية ما عدا : (الأزرق الفاتح - الأزرق - الأحمر - الأخضر)
 ب الظل هو المساحة المظلمة التى تتكون الجسم المعتم عندما يسقط عليه الضوء .
 ج جميع ما يلى من طرق فصل المخاليط ما عدا :
 د من الكائنات المنقرضة بسبب الظروف الطبيعية .
 (أمام - خلف - يمين - شمال)
 (الترشيح - التقليب - التبخير - الجذب المغناطيسى)
 (الأسود - الحشرات - الديناصورات - النمر)

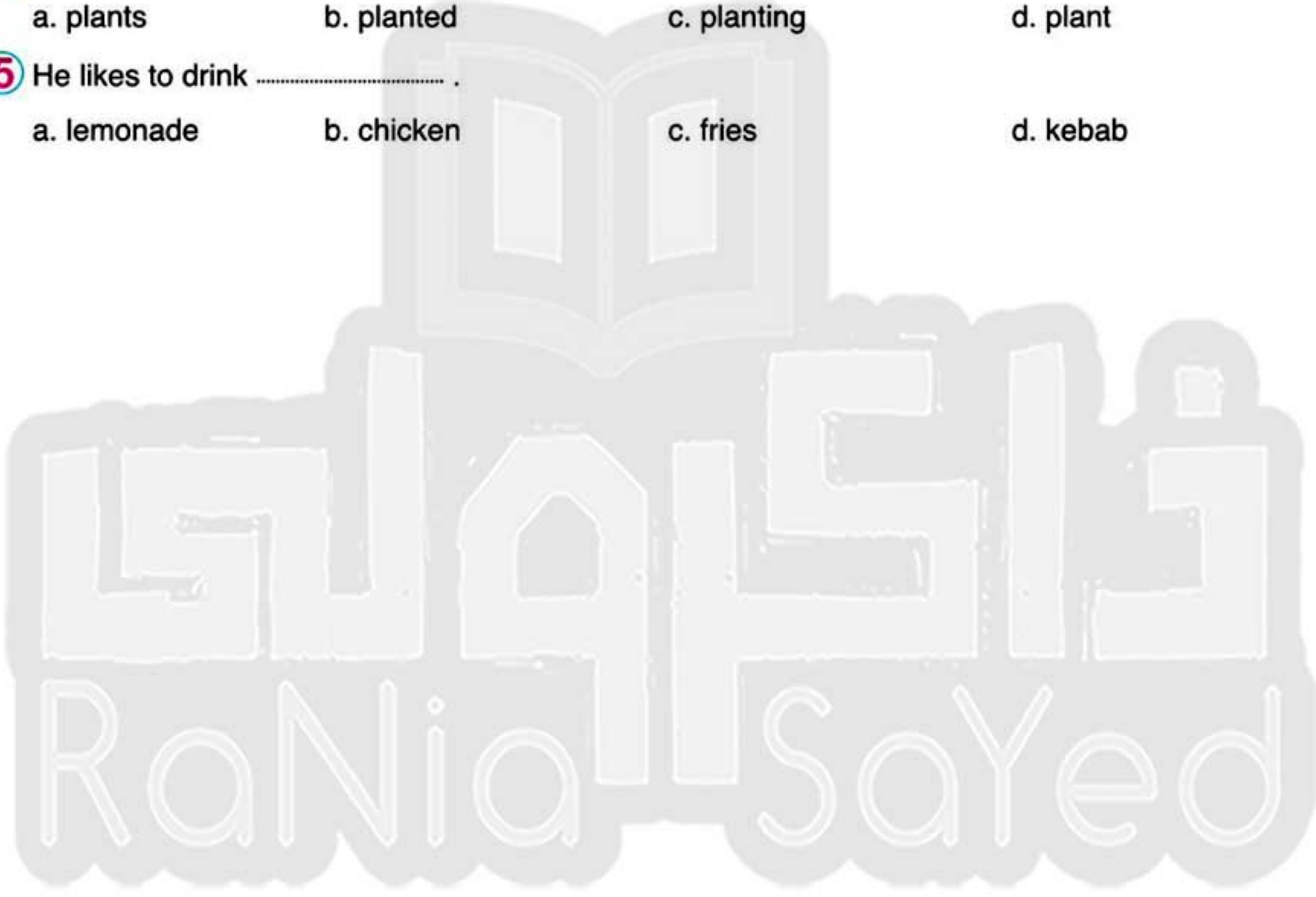




Fifth: English

Choose the correct answer from a, b, c or d:

- 1 What is he have?
a. going to b. go c. went d. goes to
- 2 Turn right. It's the left.
a. in b. on c. at d. for
- 3 He hangs up the
a. pens b. rubbish c. clothes d. groceries
- 4 Ali will flowers in the spring.
a. plants b. planted c. planting d. plant
- 5 He likes to drink
a. lemonade b. chicken c. fries d. kebab



مراجعة ليلة الامتحان



تابع جديد زاكروولي على موقعنا
<https://www.zakrooly.com>



مع تمنيات موقع ذاكرولي التعليمي لكل الطلاب بالنجاح والتوفيق

سلاح التلميذ

موقع ذاكرولي التعليمي

الصف الخامس الابتدائي

مراجعة ليلة الامتحان (الصف الخامس الابتدائي)

النموذج ١٠

أولاً : اللغة العربية

١ من موضوع « الكهرباء فى حياتنا » :

« وعندما تأكد المعلم من إدراك التلاميذ أهمية الكهرباء ؛ حثهم على حسن استخدام الكهرباء وتجنب مخاطرها . »

اختر الإجابة الصحيحة مما بين القوسين :

- | | |
|-----------------------|-------------------------------------|
| ١ مرادف (إدراك) : | (مشاركة - رفض - فهم) |
| ٢ مفرد (التلاميذ) : | (التلميذة - التلميذ - التلميذان) |
| ٣ كلمة (مخاطر) : | (جمع مذكر - جمع تكسير - جمع مؤنث) |
| ٤ (المعلم) ، تعرب : | (فاعل - مبتدأ - مفعول به) |
| ٥ (تأكد) فعل : | (ماض - مضارع - أمر) |

٢ من قصة « مغامرات فى أعماق البحار » :

اختر الإجابة الصحيحة مما بين القوسين :

- | | |
|---|--|
| ١ كان الحمام الزاجل يُستخدم قديماً فى حمل : | (الناس - الرسائل - الآثاث) |
| ٢ قرراًسامة الصعود لسطح الماء لـ : | (يصاحب الغواصين - يبحث عن أخته - يعرف حكاية الأنايب) |

٣ من نص « جزاء العاملين » :

قال تعالى : ﴿ فَاسْتَجَابَ لَهُمْ رَبُّهُمْ أَنِّي لَا أُضِيعُ عَمَلَ عَمَلٍ مِّنْكُمْ مِّنْ ذَكَرٍ أَوْ أُنثَىٰ بَعْضُكُم مِّنْ بَعْضٍ فَأَلَّزِينِ هَاجِرُوا وَأَخْرَجُوا مِنْ دِيَارِهِمْ وَأُودُوا فِي سَبِيلِي وَقَتَلُوا وَقَتَلُوا لَا كُفْرَانَ عَنْهُمْ سَيِّفَاتِهِمْ وَلَا دَخَلَتْهُمُ جَنَّتِ بَحْرِي مِنْ تَحْتِهَا الْأَنْهَارُ ثَوَابًا مِّنْ عِنْدِ اللَّهِ وَاللَّهُ عِنْدَهُ حَسَنُ الثَّوَابِ ﴿١٦٥﴾ [آل عمران: ١٩٥]

اختر الإجابة الصحيحة مما بين القوسين :

- | | |
|---|--|
| ١ مفرد (ديار) : | (دير - دور - دار) |
| ٢ (فى سبيل) المقصود بها : | (جهاد فى سبيل الله - طاعة لله - الاثنان معاً) |
| ٣ (مِّنْ ذَكَرٍ أَوْ أُنثَىٰ) ، تعبير يدل على : | (تمييز الذكور - المساواة بين الرجل والمرأة - تمييز الإناث) |

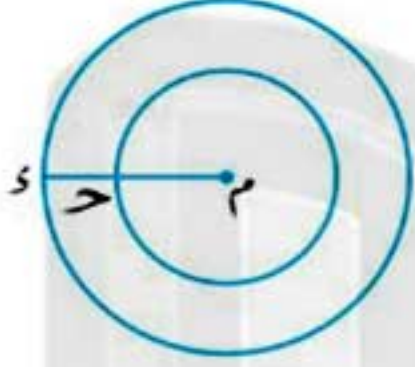
مراجعة ليلة الامتحان

تابع جديد زاكروولى على موقعنا
https://www.zakrooly.com

ثانيًا : الرياضيات

اختر الإجابة الصحيحة مما بين القوسين :

- ١ $٤,٧٥ \div ٢,٥ = ٤٧,٥ \div \dots$
- ٢ $\{0\} \dots \emptyset$
- ٣ س ص ع ل مربع محيطه ١٢ سم ، رُسمت دائرة م طول نصف قطرها يساوي طول ضلع المربع
س ص ع ل ؛ فإن طول قطر الدائرة م = سم .
- ٤ س م ن س =
(س م س م لا شيء مما سبق)
- ٥ عند إلقاء عملة معدنية مرة واحدة فقط ؛ فإن احتمال ظهور كتابة = (صفر $\frac{1}{6}$ $\frac{1}{6}$)
- ٦ من شكل فن المقابل :



دائرتان لهما نفس المركز م ، فإذا كان
طولاً نصف قطريهما ٢ سم ٥ سم ،
فإن طول \overline{MR} = سم .

- ٧ إذا كان سعر المتر الواحد من القماش هو ٧,٢٥ جنيه ؛ فإن ثمن ٣,٥ متر = جنيه .
(٢٥٣٧,٥٦٢٥٣,٧٥٦ ٢٥,٣٧٥٦٢,٥٣٧٥)

ثالثًا : الدراسات الاجتماعية

اختر الإجابة الصحيحة مما بين القوسين :

- ١ يعتبر العصر البطلمي هو عصر خلفاء : (أنطونيوس - أكتافيوس - يوليوس قيصر - الإسكندر الأكبر)
- ٢ يرجع توافر وسائل النقل البري إلى :
- ٣ (كثرة الموانئ - استواء السطح - كثرة المطارات - ارتفاع الجبال)
أصبح إمبراطورًا بعد وفاة يوليوس قيصر .
- ٤ (أنطونيوس - أكتافيوس - الإسكندر - قسطنطين)
أكثر مصادر الطاقة غير المتجددة تلويثًا للبيئة : (البترول - الشمس - الفحم - الغاز الطبيعي)

رابعًا : العلوم

اختر الإجابة الصحيحة مما بين القوسين :

- ١ يُستخدم في تحليل ألوان الطيف السبعة .
- ٢ (البوصلة - المنشور الزجاجي - الدينامو - البوصلة)
نرى التفاحة باللون الأحمر ؛ لأنها تمتص جميع ألوان الطيف ما عدا اللون ، فإنها تعكسه .
- ٣ (الأصفر - الأحمر - الأبيض - الأخضر)
جميع ما يلي يسبب اختلالًا للتوازن البيئي ما عدا :
- ٤ (تغير الظروف الطبيعية - مقاومة التلوث البيئي - قطع الأشجار - حرق الغابات)
كل مما يلي يعتبر من المخالط ما عدا : (معجون الأسنان - الماء المقطر - اللبن - العصائر)





Fifth: English

Choose the correct answer from a, b, c or d:

- 1 Last week, I the Pyramids in Giza.
a. visit b. visited c. visiting d. visits
- 2 We fly kites and play on the
a. pen b. book c. slide d. sky
- 3 I didn't pictures last week.
a. took b. take c. taking d. takes
- 4 The beetle is the middle of the puddle.
a. next b. between c. of d. in
- 5 They climbed a yesterday.
a. card b. pot c. mountain d. joke



مراجعة ليلة الامتحان



تابع جديد زاكروولي على موقعنا
<https://www.zakrooly.com>



مع تمنيات موقع ذاكروللي التعليمي لكل الطلاب بالنجاح والتوفيق

سلاح التلميذ

موقع ذاكروللي التعليمي

الصف الخامس الابتدائي